

# 2023 年成都市初中学业水平考试

1/4

## 地 理

(考试时间: 60 分钟, 满分: 100 分)

注意事项:

1. 答题前, 考生在答题卡上将自己的姓名、座位号和考号用 0.5 毫米的黑色墨水签字笔填写清楚, 并用 2B 铅笔正确地填涂考号。
2. 在答题卡上, 选择题用 2B 铅笔填涂, 非选择题用 0.5 毫米的黑色墨水签字笔书写, 字体工整、笔迹清楚; 请按照题号顺序在各题目对应的答题区域内作答, 超出答题区域书写的答案无效; 在草稿纸、试卷上答题无效。

### 第 I 卷 (选择题, 共 50 分)

一、选择题。(下列各题只有一个正确的或最符合题意的选项。每小题 2 分, 共 50 分)

极地地区的自然环境非常特殊, 有着极高的科学研究价值。图 1 为北极熊与企鹅之间的对话。据此完成 1~3 题。



图 1

1. 下列自然环境特征为南、北极地区共有的是  
A. 纬度位置高    B. 沙漠面积广    C. 以高原为主    D. 以海洋为主
2. 与北极地区相比, 南极地区  
A. 全年降水量较多    B. 全年平均风速更大  
C. 全年大风日数较少    D. 全年平均气温较高
3. 造成北极熊、企鹅栖息的大块“海冰”变少、变小的主要原因是  
A. 全球气候变暖    B. 海洋污染加剧    C. 极地风速增大    D. 极地降水减少

近十年来,我国人口保持低速增长态势,2022年首次出现负增长。我国2016年起全面实施两孩政策,2021年实施三孩政策。图2为我国2000年至2020年人口普查情况统计图。据此完成4~5题。




图2

4. 从图中看出,我国
- A. 0-14岁人口比重持续上升
  - B. 65岁以上人口比重持续上升
  - C. 15-64岁人口比重持续下降
  - D. 65岁以上人口比重最高
5. 我国实施“两孩”“三孩”人口政策的主要目的是
- A. 鼓励生育,优化年龄结构
  - B. 降低人口分布密度
  - C. 提高老年人口数量及比重
  - D. 降低死亡人口数量

台湾和福建之间有着地缘相近、血缘相亲、文缘相承、商缘相连、法缘相循的五缘关系。

图3为我国台湾位置示意图。据此完成6~7题。

6. 台湾和福建地缘相近,只隔一湾浅浅的海峡,该海峡的名称是

- A. 琼州海峡
- B. 渤海海峡
- C. 舟山海峡
- D. 台湾海峡



图3

7. 我国下列民族节庆活动中,能体现两地汉族同胞血缘相亲、文缘相承的是

- A. 泼水节
- B. 元宵节
- C. 雪顿节
- D. 那达慕节

肉串裹上蘸酱,摊在小饼上再放段小葱一煎,成就了独特的淄博烧烤。家住济南的小林计划6月某周末带爷爷、奶奶前往淄博游玩。下表为小林查询的济南至淄博的部分车次信息。据此完成8~10题。

车次	出发地	目的地	出发时间-抵达时间	座位	票价(元)
K1449	济南	淄博	01:16-02:53	硬座	16.5
G1061	济南	淄博	09:32-10:03	二等座	40
K285	济南	淄博	01:26-02:19	无座	16.5
D8178	济南	淄博	09:38-11:04	一等座	90

8. 小林最终选择了G1061次列车,是因为
- A. 时间合理且票价适中
  - B. 票价适中且座位舒适度最高
  - C. 里程最短且票价最低
  - D. 里程最短且座位舒适度最高
9. 出发前,小林提醒爷爷、奶奶要
- A. 带上羽绒服,防寒保暖
  - B. 留意安全通道,防范突发情况
  - C. 带上冲浪板,海边冲浪
  - D. 带上世界地图,以防在城中迷路

10. 小饼、蘸酱的原料为当地主要农作物，它们分别是

- A. 水稻、油菜      B. 小麦、花生      C. 小麦、油菜      D. 水稻、花生

2021年10月我国正式设立了大熊猫国家公园。大熊猫国家公园地处秦岭、岷山、环梁山和大小相岭山一带，图4阴影部分为该公园的分布范围。据此完成11~12题。

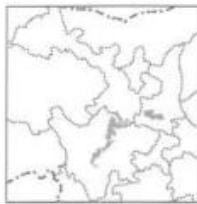


图4

11. 大熊猫国家公园分布面积最大的省级行政区是

- A. 秦      B. 黔      C. 川      D. 甘

12. 夏季，科研人员在大熊猫国家公园开展野外考察时，应注意防范的自然灾害是

- A. 台风      B. 海啸      C. 寒潮      D. 滑坡、泥石流

一个城市具有文化传承价值的著名建筑，往往成为这个城市的符号。据此完成13~14题。

13. 下列建筑属于北京符号的是



①吊脚楼



②窑洞



③土楼



④四合院

- A. ①      B. ②      C. ③      D. ④

14. 人民大会堂、国家大剧院体现的北京城市职能分别是

- A. 全国政治中心、国际交往中心      B. 全国文化中心、科技创新中心  
C. 全国政治中心、全国文化中心      D. 全国文化中心、国际交往中心

“成都成就梦想”，第31届世界大学生夏季运动会将于2023年7月28日至8月8日在成都举行。成都将向全世界展示“成都微笑”，呈现“天府文化”。据此完成15~16题。

15. 下列宣传资料中，能体现成都“天府文化”的有




①



②



③



④

- A. ①②      B. ②③      C. ③④      D. ①④

16. 举办大运会给成都带来的积极影响有

- ①缓解城市交通压力      ②减少市区人口流动  
③促进体育基础设施建设      ④提高城市知名度

- A. ①②      B. ②③      C. ③④      D. ①④

2023年5月30日9时31分，晴空万里，我国神舟十六号载人飞船在酒泉卫星发射中心发射成功，中国航天人再次向星辰大海迈进。据此完成17~19题。

17. 下列天气符号中，能反映神舟十六号发射时酒泉天气情况的是



A.



B.



C.



D.

18. 远在美国的华人观看神舟十六号发射实况时，当地正处于夜晚，产生这种现象的原因是

A. 地球自转—时间差异

B. 地球自转—纬度划分

C. 地球公转—四季变化

D. 地球公转—五带划分

19. 神舟十六号发射当天，酒泉的昼夜长短情况是

A. 昼长夜短

B. 昼短夜长

C. 全天皆昼

D. 昼夜平分

图5为我国某地等高线地形与铁路线路分布图。据此完成20~22题。

20. 图中虚线①代表的山体部位名称是

A. 鞍部

B. 山脊

C. 山谷

D. 陡崖

21. 甲地与山峰的相对高度为

A. 121米

B. 131米

C. 141米

D. 151米

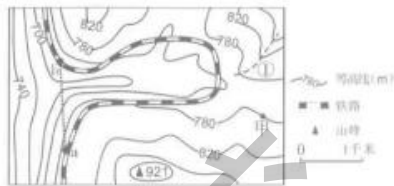


图5

22. 图中铁路拟改建为高速铁路，经过ab段时沿虚线修建的目的有

①增加交通运输方式

②缩短通行时间

③提高通行安全

④降低线路坡度

A. ①②

B. ②③

C. ③④

D. ①④

青稞是藏区居民主要粮食，具有高抗氧化性、营养价值高等优点。图6为西藏青稞主要分布范围示意图。据此完成23~25题。

23. 图示区域年降水量分布特征为

A. 从东南向西北递减

B. 从西北向东南递减

C. 从西南向东北递增

D. 从东北向西南递增



图6

24. 青稞主要分布在

A. 藏西北湖泊区

B. 藏东南湖泊区

C. 藏东南河谷区

D. 藏西北河谷区

25. 以青稞为原料制作的当地特色美食是



①糌粑



②米线



③饅餅



④凉皮

A. ①

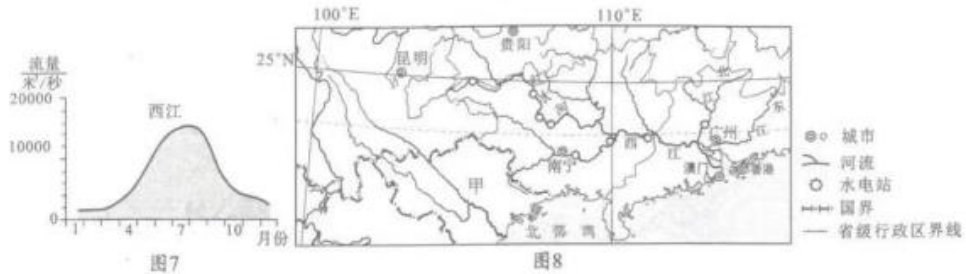
B. ②

C. ③

D. ④

## 二、非选择题。(5个小题,共50分)

26. 珠江,又名粤江,西江是珠江水系的最大干流。图7为西江的流量年变化曲线图,图8为珠江水系示意图。读图完成下列问题。(10分)



(1) 珠江流经了我国六个省级行政区及甲\_\_\_\_\_ (填邻国)北部;西江发源于\_\_\_\_\_ (填地形区名称),流经滇、黔、桂、\_\_\_\_\_ (填省级行政区简称),注入\_\_\_\_\_ 海。(4分)

(2) 从河流流量、结冰期两方面说出西江的水文特征。(2分)

(3) 西江的上游红水河河段主要开发利用方向是\_\_\_\_\_,下游河段主要开发利用方向是\_\_\_\_\_。(2分)

(4) 图示我国区域耕地类型多为\_\_\_\_\_,主要种植的粮食作物是\_\_\_\_\_。(2分)

27. 西北有“风吹草低现牛羊”的辽阔草原、“大漠孤烟直”的雄浑沙漠,还有耸立的雪峰,为了更好的了解西北,让我们一起踏上西北的研学旅程。根据研学素材完成下列问题。(8分)

研学主题	研学素材	研学笔记
体验内蒙古之广		<p>(1) 当地特色民居是_____。(1分)</p> <p>(2) 内蒙古自东向西的植被景观,依次是草原—荒漠草原—荒漠,造成该景观变化的原因是_____。(1分)</p>
解码“塞上江南”之奇		<p>(3) 宁夏平原引_____ (填河流名称)河水灌溉,农业发达,被称为“塞上江南”。(1分)</p> <p>(4) 宁夏平原的大枣、西瓜特别甜的原因是_____。(2分)</p>



感受新疆之美



新疆名片

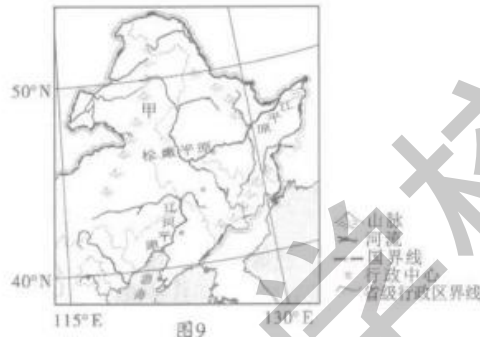
- 哈坎察长三
- 密儿洲城山
- 瓜井农棉夹
- 业基两
- 地盆

(5) 甲山脉的名称是\_\_\_\_\_，该山脉与阿尔泰山、昆仑山构成了新疆地形基本骨架。(1分)

(6) 从图中可以看出新疆棉花种植区主要分布在\_\_\_\_\_。(1分)

(7) 坎儿井引水工程采用暗渠输水的方式，其主要原因是\_\_\_\_\_。(1分)

28. 东北平原北部开发较晚，曾经人烟稀少，沼泽遍地，历史上被称为“北大荒”，如今，“北大荒”变成了“北大仓”。图9为东北平原位置示意图。读图完成下列问题。(9分)




【山环水绕】

(1) 东北平原由辽河平原、松嫩平原和\_\_\_\_\_平原构成，三面被山地环绕，西部甲山脉的名称是\_\_\_\_\_。(2分)

【沃野千里】

(2) 东北平原冬季漫长严寒，大部分地区农作物的熟制为\_\_\_\_\_，主要粮食作物有\_\_\_\_\_、玉米、水稻等。(2分)

(3) 图10为2018年东北三省的人口、耕地面积、粮食产量占全国比重图。



根据图10中的信息，说出东北三省成为我国重要商品粮基地的原因。(3分)

【可持续发展之路】

(4) 如今“北大仓”实施了部分“退耕还湿”工程，建立了一批湿地自然保护区。请列举湿地的生态功能(至少两条)。(2分)

29. 黄土高原这片古老的土地上，奔腾着中华民族的母亲河——黄河。早在八千年前，渭河平原就已经出现了原始的农耕文明，四五千年前华夏始祖炎黄二帝在这开创了华夏文明的先河。图 11 为黄土高原示意图。读图完成下列问题。（12 分）

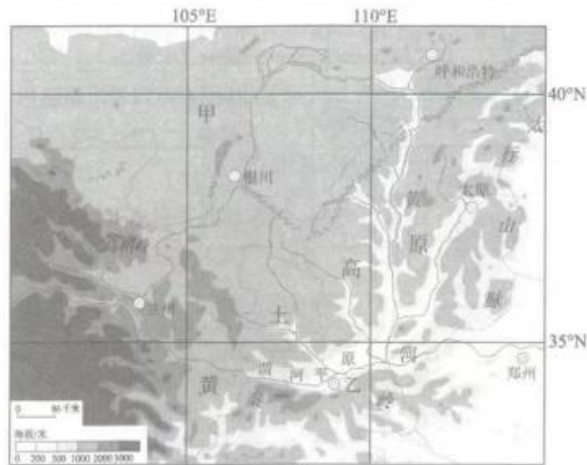


图 11

**【识黄土高原】**

- (1) 黄土高原位于我国的第\_\_\_\_\_级阶梯，该高原北部与甲\_\_\_\_\_（填地形区名称）相连。（2 分）




**【探文明摇篮】**

- (2) 图中乙城市的名称为\_\_\_\_\_，该城市为十三朝古都，历史悠久。（1 分）

- (3) 简述渭河平原发展农业的优越自然条件（从地形、气候、水源、土壤等方面回答）。（3 分）

**【找水土流失之因】**

- (4) 观察水土流失的模拟实验，填写对应的实验结论（注：烧杯中的阴影表示水和沙的多少）。（3 分）

影响因素	实验过程	实验结论
降水		
植被		
地表及坡度		

**【寻治理之策】**

- (5) 说出治理黄土高原水土流失的可行性措施（至少三条）。（3 分）

30. 区域学习重在方法，用学习国家的方法来认识俄罗斯。俄罗斯横跨亚欧大陆北部，自然资源丰富，种类齐全。图12为俄罗斯地形、资源、铁路示意图。读图完成下列问题。(11分)

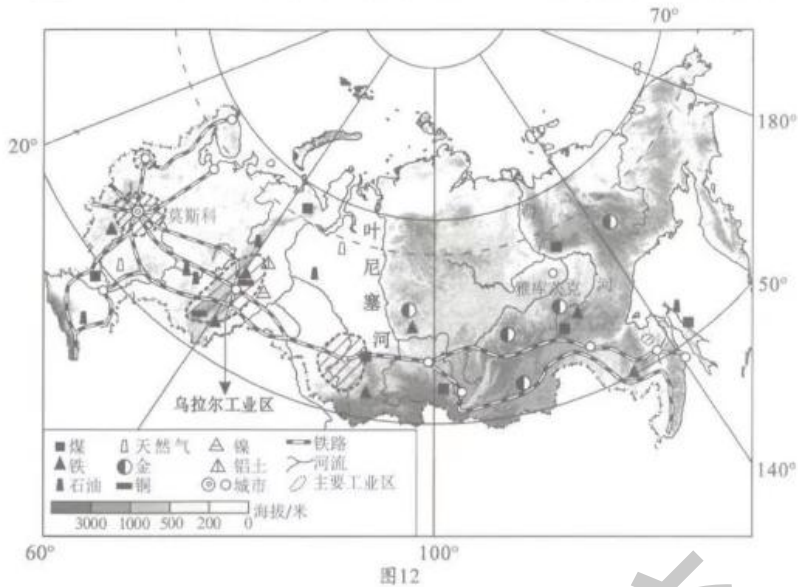


图12

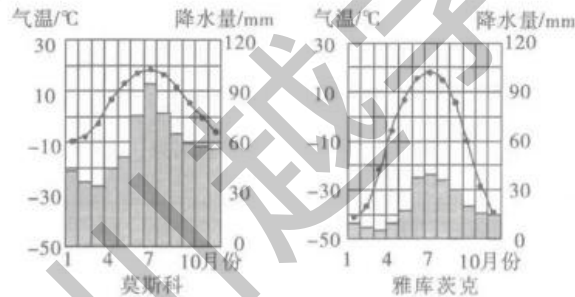
**【识位置】**

- (1) 从纬度位置判断，俄罗斯主要位于五带中的北温带和\_\_\_\_\_带，北部濒临\_\_\_\_\_洋。(2分)

**【辨地形】**

- (2) 叶尼塞河以西主要地形是\_\_\_\_\_；叶尼塞河的流向为\_\_\_\_\_，判断依据是\_\_\_\_\_。(3分)

**【读气候】**



- (3) 读莫斯科、雅库茨克多年平均各月气温和降水量图，比较两地的气候差异。(2分)

**【析事物】**

- (4) 根据乌拉尔工业区附近的矿产资源，列举该工业区主要的工业部门。(2分)

- (5) 据图说出俄罗斯铁路主要布局在南部的原因。(2分)



## 2023年成都市初中学业水平考试 地理试题参考答案及评分意见

### 一、选择题

1	2	3	4	5	6	7	8	9	10	11	12	13
A	B	A	B	A	D	B	A	B	B	C	D	D
14	15	16	17	18	19	20	21	22	23	24	25	
C	D	C	C	A	A	B	C	B	A	C	A	

### 二、非选择题

#### 26题(10分)

- (1) 越南 云贵高原 粤 南  
 (2) 流量丰富, 流量季节变化大; 无结冰期。  
 (3) 水能(水电) 航运(水运) (4) 水田 水稻

#### 27题(8分)

- (1) 蒙古包 (2) 降水量自东向西递减  
 (3) 黄河 (4) 光照充足, 昼夜温差大, 利于糖分积累。  
 (5) 天山 (6) 山麓地带(盆地边缘、河流沿岸、绿洲地带)  
 (7) 减少水分蒸发

#### 28题(9分)

- (1) 三江 大兴安岭 (2) 一年一熟 小麦  
 (3) 东北三省人口占全国比重低, 耕地面积占全国比重大, 粮食产量占全国比重高。  
 (4) 涵养水源; 蓄洪防旱; 调节气候; 维持生物多样性。(任答对两点给二分)

#### 29题(12分)

- (1) 二 内蒙古高原 (2) 西安  
 (3) 地形平坦; 气候优越; 土壤肥沃; 灌溉便利。(任答对三点给三分)  
 (4) 坡度、降水强度相同的情况下, 植被覆盖率越低, 水土流失越严重;  
 坡度、植被覆盖率相同的情况下, 降水强度越大, 水土流失越严重;  
 降水强度、植被覆盖率相同的情况下, 坡度越大, 水土流失越严重。  
 (5) 植树种草; 修建档土坝; 缓坡建梯田; 打坝淤地; 陡坡退耕还林、还草; 合理放牧等。(任答对三点给三分)

#### 30题(11分)

- (1) 北寒 北冰 (2) 平原 由南向北流 地势南高北低  
 (3) 年降水量, 莫斯科较雅库茨克丰富; 气温年较差, 雅库茨克较莫斯科大。  
 (4) 采掘业; 钢铁工业; 机械制造业; 有色金属冶炼。(任答对两点给二分)  
 (5) 南部纬度较低, 气温相对较高; 南部人口和城市较多; 南部工业区众多; 南部矿产资源丰富。(任答对两点给二分)